

Juliana

Naam: _____

§1 Verhoudingstabellen

1

Meisjes	3	9	21	30
Jongens	2	12	16	

laptop	7			
desktop	5			

honden	3	15	27	
katten	7	21	49	77

3

euro	140	12
kassières	5	

dozen	8	11
zakken	240	

kilo	10,5	3
Aantal flessen	7	

dozijn	1	12
eieren	12	

6

Aantal witte kralen	2	4	
Aantal rode kralen	5		20
totaal	7		70

8

Wielrennen

km	4	...	10
min	12

Rijbewijs

gezakt	3	...	9
geslaagd	10

Huisdieren

Honden	8	...	20
Katten	2

Mixdrankje

Siroop	2	...	10
water	7


10

Aantal pakken	1	2	4	5	6	
Melk	800					
Eieren	2					
Aantal personen	6					32

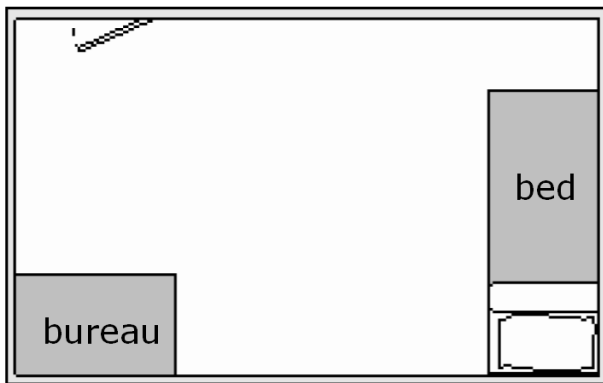
§2 Schaal en schaalijntjes

10

Centimeter	5	1
Kilometer	10	

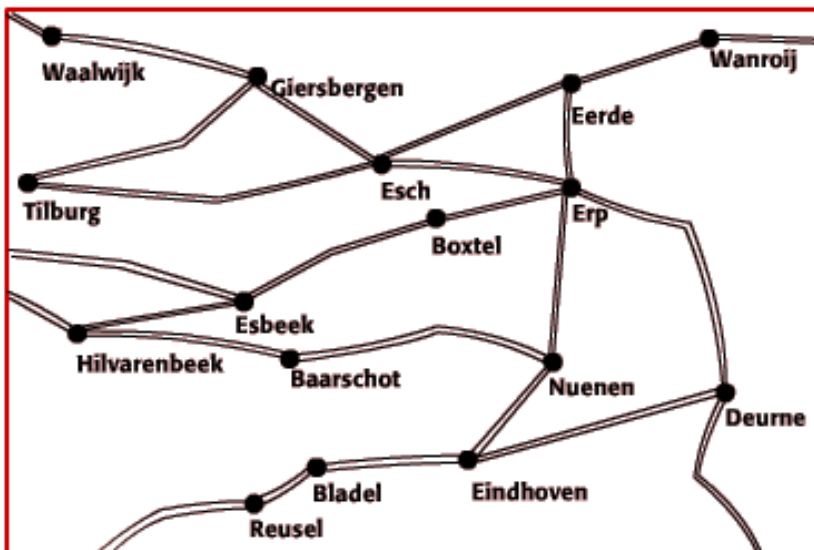


11

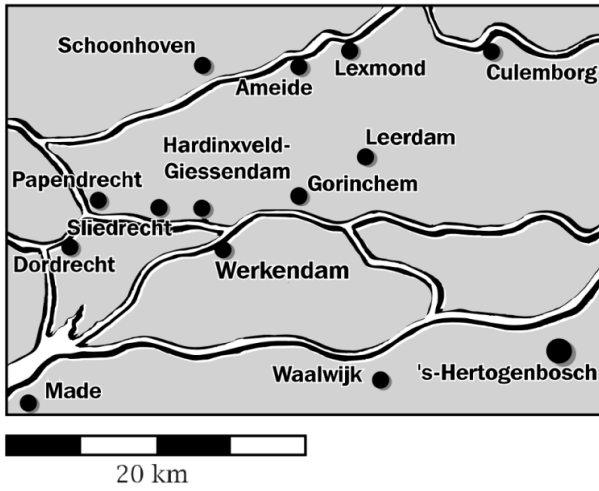


5 m

14



15



§3 Snelheid

3



○



○



○



○



○

○
220 km/uur

○
100km/uur

○
380km/uur

○
5 km/uur

○
15 km/uur

10

km/u	afstand	tijd	m/s
...	35 km	20 min.	29,167 m/s
96 km/u	...	15 min.	... m/s
...	...	12 min.	5 m/s
75 km/u	15 km m/s
25 km/u	...	50 min.	... m/s